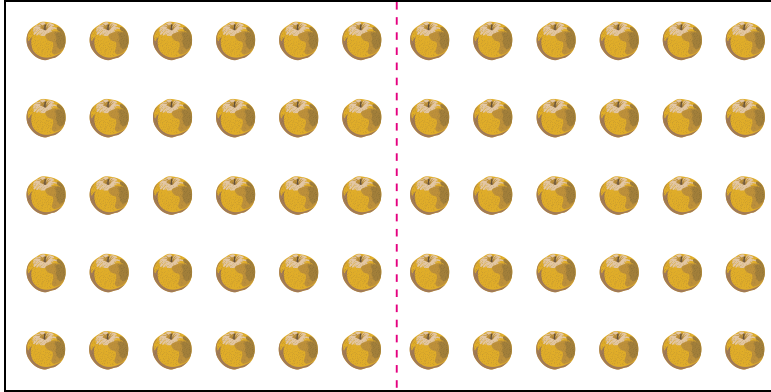


(1) なしは いくつ ありますか。

かけ算の しきに あらわして みましょう。



よし、もう ひとふんばり!



よくがんばったね!

しき  $5 \times 12$

(2) (1)のしきを 九九を つかって もとめましょう。

自分が かんがえた しきを かき、こたえを もとめましょう。


九九をつかったしき(赤線のところできると)  
 $5 \times 6 = 30$     $5 \times 6 = 30$     $30 + 30 = 60$   
 (ほかのかんがえ方もあるね)

こたえ  
 $60$

(3) つぎの かけ算の しきの こたえを、九九を つかって もとめ  
 ましょう。

①  $11 \times 11 = 121$


$9 \times 9 = 81$     $2 \times 9 = 18$     $9 \times 2 = 18$     $2 \times 2 = 4$   
 $81 + 18 + 18 + 4 = 121$



ほかにもいろいろ  
 できますよ。

②  $12 \times 12 = 144$

$9 \times 9 = 81$     $3 \times 9 = 27$     $9 \times 3 = 27$     $3 \times 3 = 9$   
 $81 + 27 + 27 + 9 = 144$



☆家の人のしるし

(1) つぎの かけ算の こたえを もとめましょう。

①  $5 \times 7$

$= 35$

②  $4 \times 8$

$= 32$

③  $8 \times 3$

$= 24$

④  $9 \times 6$

$= 54$

⑤  $2 \times 13$

$= 26$

⑥  $3 \times 6$

$= 18$

⑦  $4 \times 12$

$= 48$

⑧  $7 \times 8$

$= 56$

(2) つぎの もんだいの こたえを もとめましょう。

⑨ 8こ入りの なしの ふくろが 3ふくろ あります。5こ たべると のこりは い くつ でしょう。

しき
$8 \times 3 = 24$
$24 - 5 = 19$
こたえ 19こ

⑩ 9こ入りの チョコレートの はこが 4 はこ あります。5こ入りの クッキーの はこが 3はこ あります。チョコレート と クッキーを あわせると ぜんぶで なんこに なるでしょう。

しき
$9 \times 4 = 36$ $5 \times 3 = 15$
$36 + 15 = 51$
こたえ 51こ

とっとりけん 《鳥取県の 日本一を さがそう》



鳥取県の 1世帯(1かぞく) あたりが 1年間に 日本一 おおく かつている のみものは なにか な？



ヒント：①インスタントや かんでも うられているよ。

②あつい ものも つめたい ものも あるよ。

鳥取県の 1世帯(1かぞく)あたりが 1年 間に 日本一 おおく かつている のみも のは コーヒーだよ。

1年間に 3378グラムの コーヒーを かつ ているよ。

しゅるいは コーヒーまめと

インスタントコーヒーなどが あるよ。

よく がんばったね！

すごい すごい！

また トリピーと いっしょに 算 数の べんきょうを しようね！

☆家の人のおしるし